

ಪ್ರೇರಣಾ ಕಾಗದ

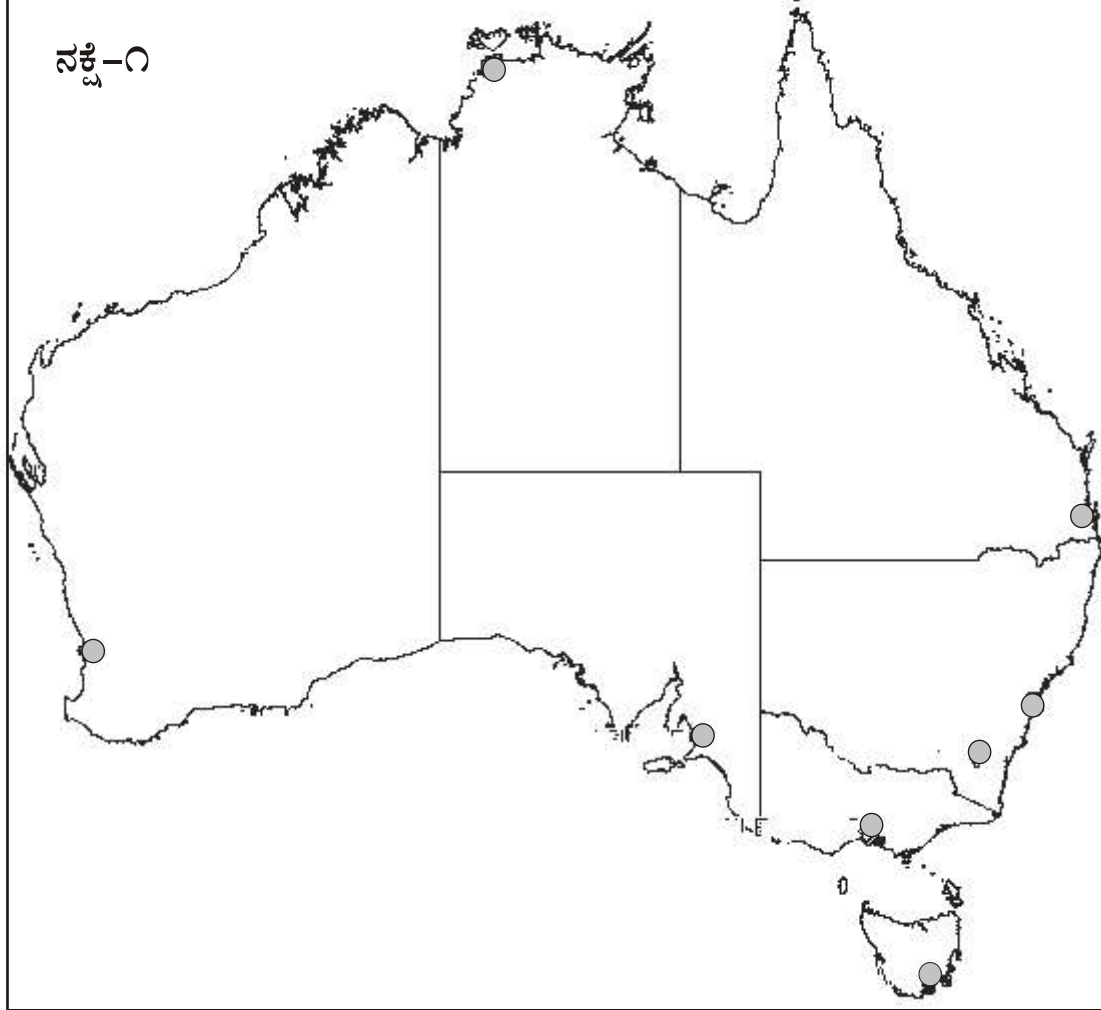
ಆಸ್ಟ್ರೇಲಿಯಾದ ರಾಜ್ಯಗಳು ಹಾಗೂ ಪ್ರಮುಖ ನಗರಗಳು

ನಕ್ಷಾ ಚಟುವಟಿಕೆ

2

ಭೂಗೋಲ

೧. ಆಸ್ಟ್ರೇಲಿಯಾದ ರಾಜಕೀಯ ರೇಖಾನಕ್ಷೆಯನ್ನು ಇಲ್ಲಿ ಕೊಡಲಾಗಿದೆ. ಇದರಲ್ಲಿ ಆಸ್ಟ್ರೇಲಿಯಾದ ರಾಜ್ಯಗಳನ್ನು ಗುರುತಿಸು. ಅದಾದ ಬಳಿಕ, ನಕ್ಷೆಯಲ್ಲಿ ವೃತ್ತದಿಂದ ಗುರುತು ಮಾಡಿರುವ ಸ್ಥಳಗಳನ್ನು ಗಮನಿಸು. ಅವು ಆಸ್ಟ್ರೇಲಿಯಾದ ಪ್ರಮುಖ ನಗರಗಳು. ಆಯಾ ನಗರಗಳ ಹೆಸರನ್ನು ಬರೆ. ಇದಕ್ಕಾಗಿ ಒಳ್ಳೆಯ ನಕ್ಷೆ/ಪಠ್ಯಪುಸ್ತಕದ ಸಹಾಯವನ್ನು ಪಡೆಯಬಹುದು. ನಗರಗಳ ಅಕ್ಷಾಂಶ ಮತ್ತು ರೇಖಾಂಶಗಳನ್ನು ಉತ್ತಮ ಅಟ್ಲಾಸ್ ಸಹಾಯದಿಂದ ತಿಳಿಯಲು ಯತ್ನಿಸು.



೨. ಇಲ್ಲಿ ಆಸ್ಟ್ರೇಲಿಯಾದ ರಾಷ್ಟ್ರಲಾಂಛನದ ರೇಖಾಚಿತ್ರ ಕೊಡಲಾಗಿದೆ. ಗಮನಿಸು. ರೇಖಾಚಿತ್ರಕ್ಕೆ ಸೂಕ್ತವಾದ ಬಣ್ಣ ಹಚ್ಚು. ಲಾಂಛನದಲ್ಲಿನ ಪ್ರಾಣಿ ಪಕ್ಷಿಗಳನ್ನು ಗುರುತಿಸು.



ಧ್ವನಿ
ಶೈಕ್ಷಣಿಕ ಸಂಪನ್ಮೂಲ ಕೇಂದ್ರ
Dhwani Educational Resource Centre

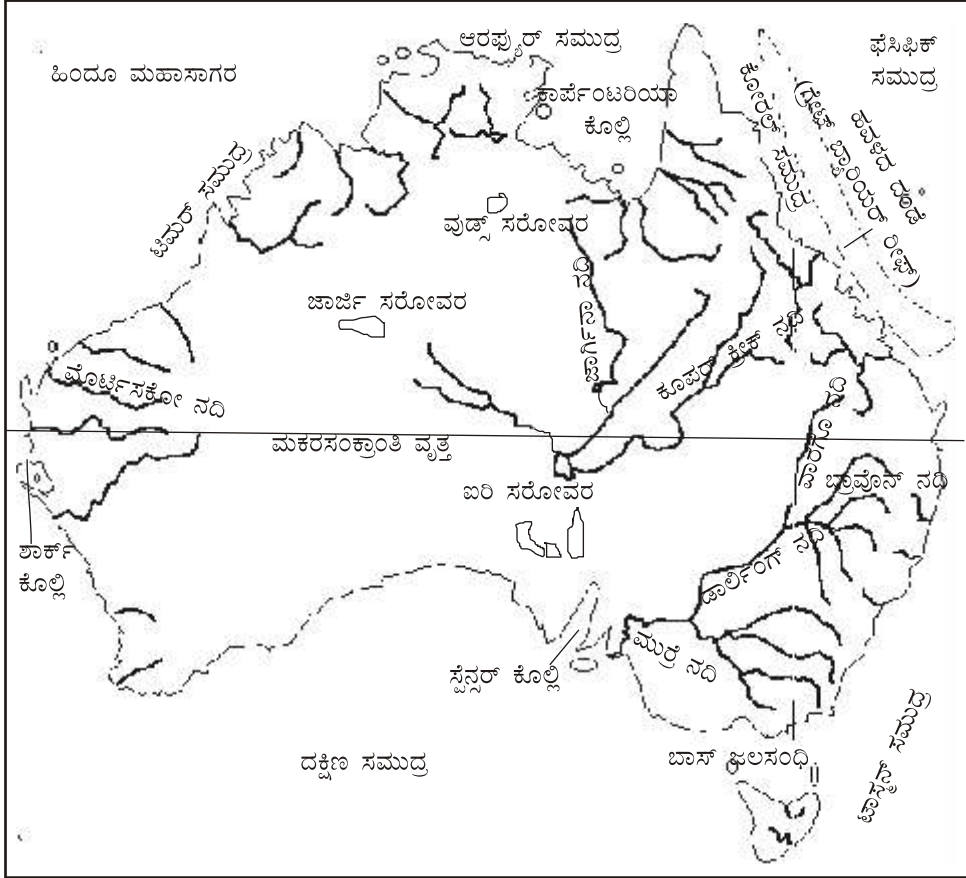
ನವೆಂಬರ್-ಡಿಸೆಂಬರ್ ೨೦೧೭-೧೮

ಪೂರಣ ಯೋಜನೆ
Poorana 2017-18 Project
is Supported by Many
Individual Donors

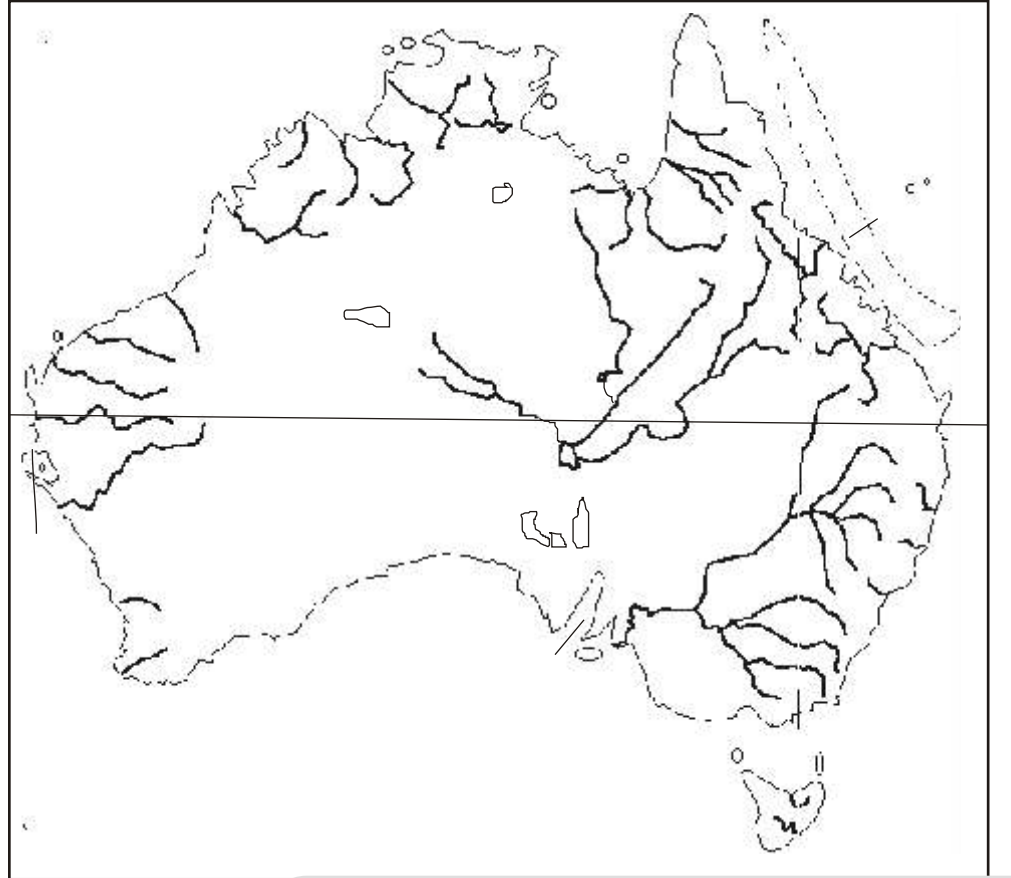
ನಕ್ಷೆ-೧ನ್ನು ಸರಿಯಾಗಿ ಗಮನಿಸು. ಅನಂತರ ಅವೆಲ್ಲ ಹೆಸರುಗಳನ್ನು ಪುನಃ ನಕ್ಷೆ-೨ರಲ್ಲಿ ಗುರುತಿಸು. ಕೆಳಗಿನ ಅಂಶಗಳನ್ನು ಕುರಿತು ಆಲೋಚಿಸು. ಒಳ್ಳೆಯ ನಕ್ಷೆಯ ಸಹಾಯದಿಂದ ಉತ್ತರಿಸುವ ಪ್ರಯತ್ನ ಮಾಡು.

- * ನಕ್ಷೆಯಲ್ಲಿ ಯಾವ ಯಾವ ಕೊಲ್ಲಿಗಳು ಕಾಣುತ್ತಿವೆ? * ಆಸ್ಟ್ರೇಲಿಯಾದ ಪ್ರಮುಖ ನದಿಗಳಾವುವು? * ಆಸ್ಟ್ರೇಲಿಯಾದಲ್ಲಿ ಹಾದುಹೋಗಿರುವ ವೃತ್ತ ಯಾವುದು?
- * ಆಸ್ಟ್ರೇಲಿಯಾವನ್ನು ಯಾವ ಯಾವ ಸಾಗರ/ಸಮುದ್ರಗಳು ಸುತ್ತುವರೆದಿವೆ? * ಹವಳದ ದಂಡೆ ಎಲ್ಲಿದೆ? * ಜಲಸಂಧಿ ಎಂದರೇನು?
- * ನಕ್ಷೆಯಲ್ಲಿ ಯಾವ ಜಲಸಂಧಿಗಳು ಕಾಣುತ್ತಿವೆ? * ಸರೋವರ ಎಂದರೇನು? * ಆಸ್ಟ್ರೇಲಿಯಾದಲ್ಲಿನ ಪ್ರಮುಖ ಸರೋವರಗಳು ಯಾವುವು?

ನಕ್ಷೆ-೧



ನಕ್ಷೆ-೨



ಶಾಲೆಯ ಹೆಸರು :

ವಿದ್ಯಾರ್ಥಿ/ವಿದ್ಯಾರ್ಥಿನಿಯ ಹೆಸರು: