



ಹೀಗೆ ಮಾಡು:

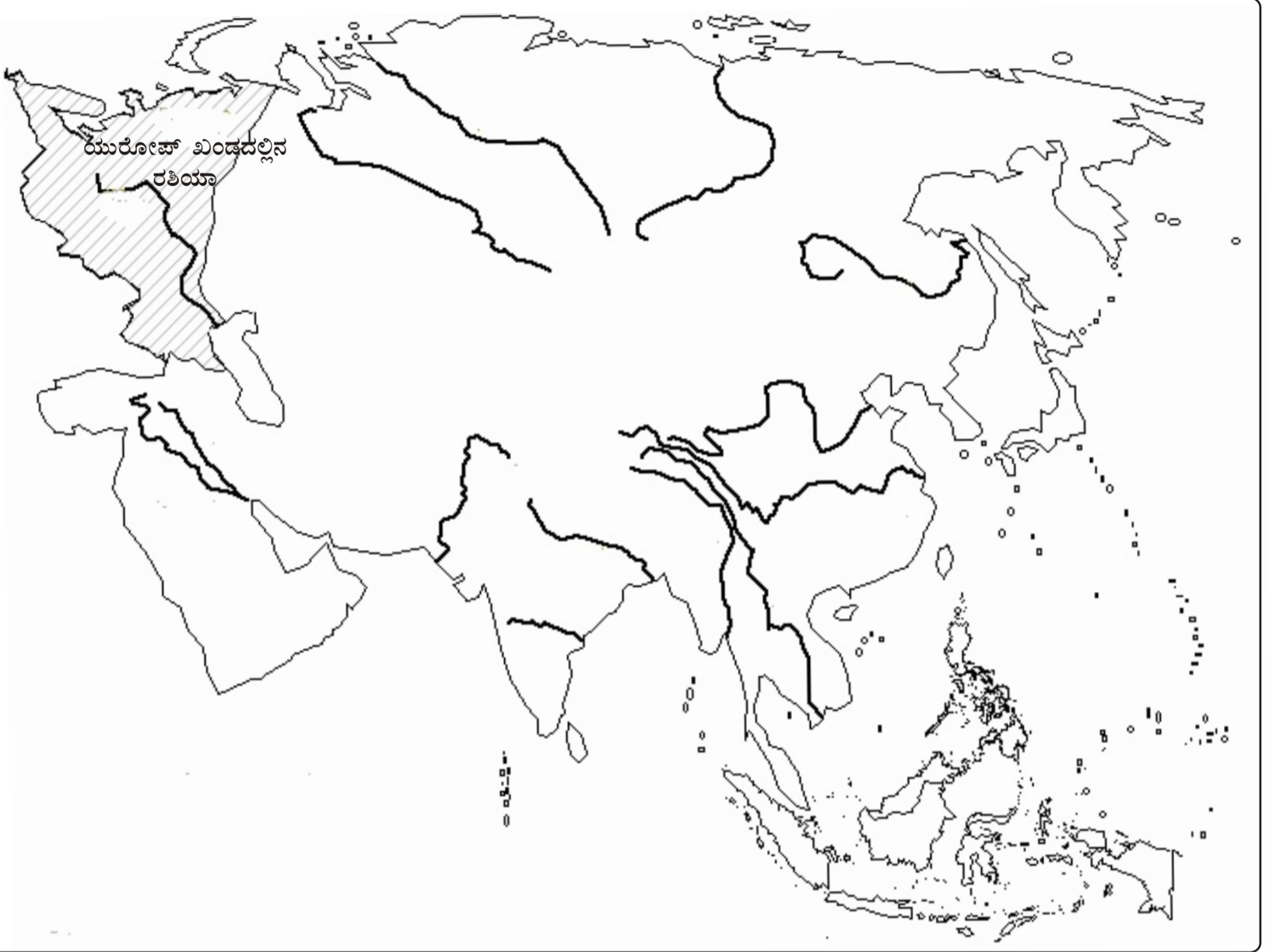
ಮೊದಲು ನಕ್ಷೆ ೧ನ್ನು ಗಮನಿಸು. ಏಷ್ಯಾ ಖಂಡದಲ್ಲಿರುವ ದೇಶಗಳು ಅದರಲ್ಲಿ ಕಾಣಿಸುತ್ತವೆ. ಆಮೇಲೆ ನಕ್ಷೆ ೨ನ್ನು ನೋಡು. ಇದರಲ್ಲಿ ಆಯಾ ದೇಶಗಳ ಹೆಸರಿನ ಮೊದಲ ಅಕ್ಷರಗಳನ್ನು ಮಾತ್ರ ಕೊಟ್ಟಿದೆ. ಆ ಹೆಸರುಗಳನ್ನು ಪೂರ್ತಿಗೊಳಿಸು. ಇದಕ್ಕಾಗಿ ಆಗಸ್ಟ್- ಸೆಪ್ಟೆಂಬರ್ ತಿಂಗಳ ಭೂಗೋಳ ಸಂಪದ/ಪಠ್ಯಪುಸ್ತಕದ ಸಹಾಯವನ್ನೂ ಪಡೆದುಕೊಳ್ಳಬಹುದು.



ಹೀಗೆ ಮಾಡು:

ಇಲ್ಲಿ ಏಷ್ಯಾ ರೇಖಾ ನಕ್ಷೆ ಮತ್ತು ಪ್ರಮುಖ ನದಿಗಳ ಪಟ್ಟಿ ಕೊಡಲಾಗಿದೆ. ಮೊದಲು ನಕ್ಷೆಯಲ್ಲಿ ಆಯಾ ನದಿಗಳನ್ನು ಗುರುತಿಸು. ಇದಕ್ಕಾಗಿ ಪ್ರಪಂಚ / ಏಷ್ಯಾ ಭೌಗೋಲಿಕ ಭೂಪಟ ಅಥವಾ ಪಠ್ಯಪುಸ್ತಕದ ಸಹಾಯ ಪಡೆದುಕೊ. ಈ ಚಟುವಟಿಕೆ ಮಾಡುವಾಗ ಉತ್ತಮ ಅಟ್ಲಾಸ್ ಅಥವಾ ಗೋಡೆ ನಕ್ಷೆಯನ್ನೂ ಬಳಸುವುದು ಹೆಚ್ಚು ಪರಿಣಾಮಕಾರಿ.

ನಕ್ಷೆ - ೩

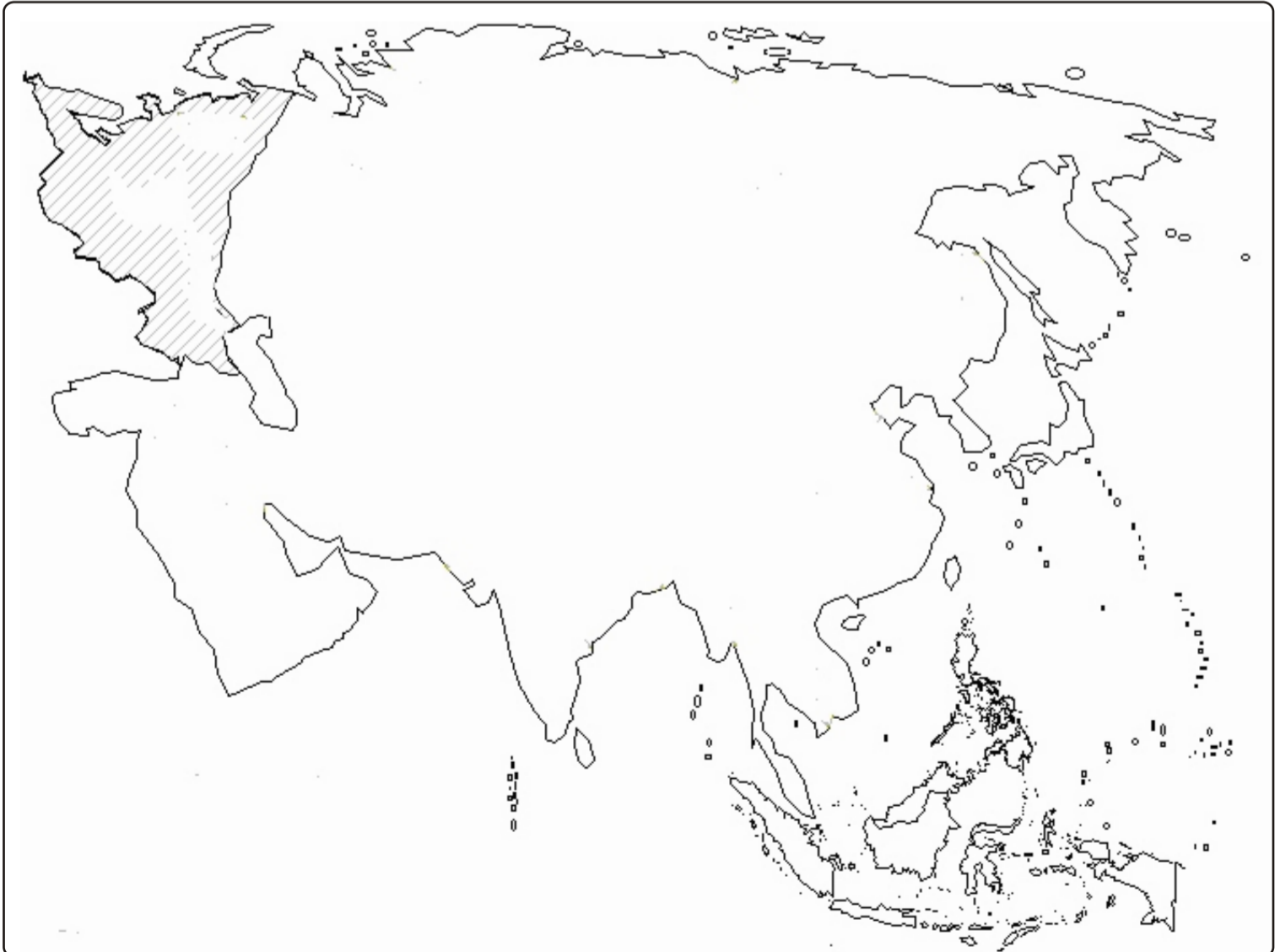


- ಗಂಗಾ
- ಯುಫ್ರೇಟಿಸ್
- ಟೈಗ್ರಿಸ್
- ಪೋಲ್ಗಾ
- ಗೋದಾವರಿ
- ಓಬ್
- ಯೆನಿಸೈ
- ಹ್ಯಾಂಗ್ ಹೀ/ ಹಳದಿ ನದಿ
- ಇರಾವಡಿ
- ಲೀನಾ
- ಮೆಕಾಂಗ್
- ಸಿಂಧೂ
- ಯಾಂಗ್-ಟೀ

ನಕ್ಷೆ - ೪

ಹೀಗೆ ಮಾಡು:

ಏಷ್ಯಾ ರೇಖಾ ನಕ್ಷೆಯಲ್ಲಿ ಏಷ್ಯಾ ಖಂಡದ ಭೌಗೋಲಿಕ ವಲಯಗಳನ್ನು ಗುರುತಿಸು. ಇದಕ್ಕಾಗಿ ಕ್ರಿಯಾನ್ ಅಥವಾ ಬಣ್ಣದ ಪೆನ್ಸಿಲ್ ಮಾತ್ರ ಉಪಯೋಗಿಸು. ಇದಕ್ಕಾಗಿ ಪ್ರಪಂಚ / ಏಷ್ಯಾ ಭೌಗೋಲಿಕ ಭೂಪಟ ಅಥವಾ ಪಠ್ಯಪುಸ್ತಕದ ನಕ್ಷೆ ಹಾಗೂ ಸಂಪದದ ನಕ್ಷೆ-೩ ಸಹಾಯ ಪಡೆದುಕೊ. ಈ ಚಟುವಟಿಕೆ ಮಾಡುವಾಗ ಉತ್ತಮ ಅಟ್ಲಾಸ್ ಅಥವಾ ಗೋಡೆ ನಕ್ಷೆಯನ್ನೂ ಬಳಸುವುದು ಹೆಚ್ಚು ಪರಿಣಾಮಕಾರಿ.



- ವಿದ್ಯಾರ್ಥಿ / ವಿದ್ಯಾರ್ಥಿನಿಯ ಹೆಸರು:.....
- ಶಾಲೆಯ ಹೆಸರು:.....
- ದಿನಾಂಕ:.....